

受験番号					学校名		点
------	--	--	--	--	-----	--	---

1 次の計算をしましょう。

(1) $1015 - 27 =$

(2) $2\frac{3}{4} + 3\frac{2}{4} =$

(3) $8 + 0.2 \times 6 =$

(4) $544 \div 3.2 =$

2 次の問題に答えましょう。

(1) 次の数を、上から2けたの概数にしましょう。

① 3.678 ()

② 20.04 ()

③ 15.81 ()

(2) (1) の問題の答えを使って、次の問題に答えましょう。

① 一番大きい数と一番小さい数の差は、いくつですか。

()

② 一番大きい数と一番小さい数の積は、いくつですか。

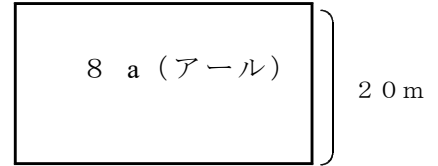
()

3 1つ150円のケーキが10円引きになっていました。このケーキを3つ買って500円を出すと、おつりはいくらですか。

式

答え ()

4 下のような田んぼがあります。次の問題に答えましょう。



(1) 田んぼの横の長さは、何mになりますか。

式

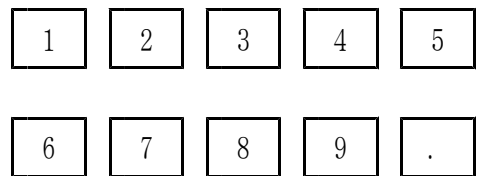
答え ()

(2) 上の田んぼに、AさんとBさんの2人で苗を植えました。Aさんは1日50㎡植え、Bさんは1日40㎡植えると、苗を植え終わるには、何日かかりますか。

式

答え ()

5 下のカードの中から5枚を使って、次の数を作りましょう。



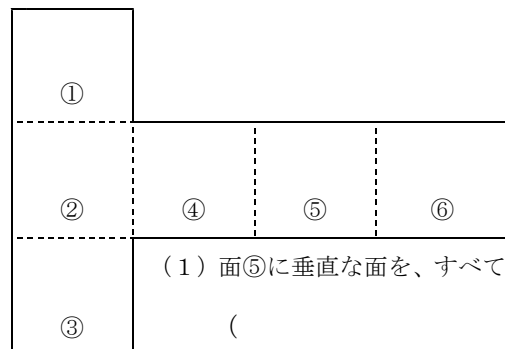
(小数点)

(1) 一番大きい数 ()

(2) 一番小さい数 ()

(3) 36に一番近い数 ()

6 下の立方体の展開図を組み立てます。あてはまるものを、すべて答えましょう。



(1) 面⑤に垂直な面を、すべて答えましょう。

()

(2) 面②に平行な面はどれですか。()